




وزارة التربية  
الإدارة العامة لمنطقة الأحمدية التعليمية  
مدرسة هدية الابتدائية بنين



# • الوحدة (٥)



للمصف الثاني




• أ. عزة علي

إعداد المعلمة

• أ. شيمه المطيري

إشراف رئيسة القسم

# الاستكشاف الجسدي





بند (٥-١)



Kuwaitmath

# صنف الاجسام ثم صل



لا تندرج

تندرج

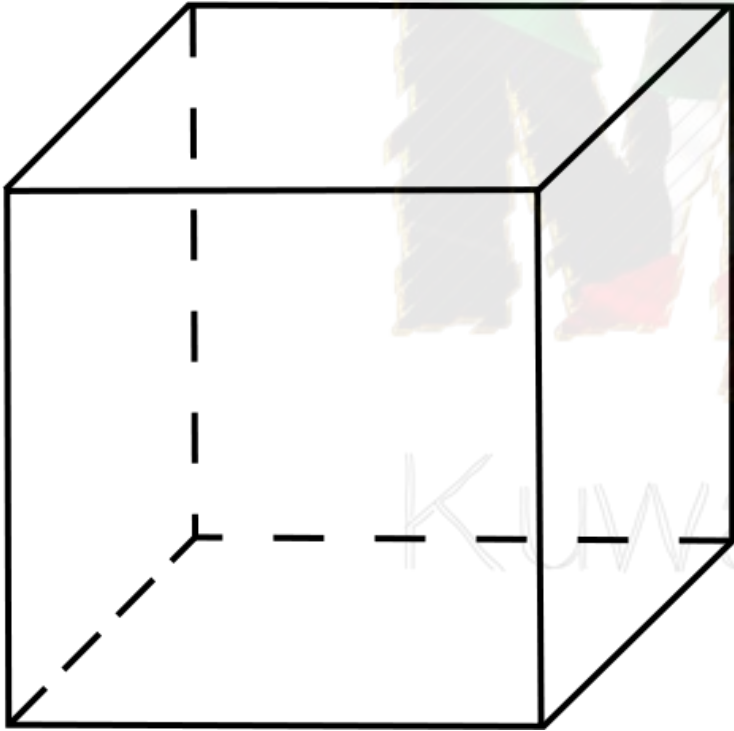
# حدد أي الأشكال التالية ( تتدحرج – لا تتدحرج )



						الأشكال
						تدحرج
						
						نعم
						لا



# أكمل



- اسم الجسم —————
- عدد الأوجه —————
- اسم الأحرف —————
- عدد الرؤوس —————




# أكمل

● اسم الجسم —

● عدد الأوجه —

● اسم الأحرف —

● عدد الرؤوس —



KuwaitMath.com





# أكمل

● اسم الجسم —



● عدد الأوجه —

● اسم الأحرف —


● عدد الرؤوس —



# حوط الجسم المناسب لكل الوجوه المعروضة



KuwaitMath.com







# حوط الجسم المناسب لكل الوجوه المعروضة



KuwaitMath.com



# التمثيل المئوية والنسب

بند (٥-٢)



KuwarAlvia.com



# أكمل



● اسم الشكل —

● عدد الرؤوس —

● عدد الأضلاع —



# أكمل



● اسم الشكل —

● عدد الرؤوس —

● عدد الأضلاع —



# أكمل



● اسم الشكل —

● عدد الرؤوس —

● عدد الأضلاع —




# أكمل

● اسم الشكل \_\_\_\_\_

● عدد الرؤوس \_\_\_\_\_

● عدد الأضلاع \_\_\_\_\_





ارسم خطأ حول الوجه الذي تركز  
عليه إحدى أدواتك . أكمل



KuwaitMath.com




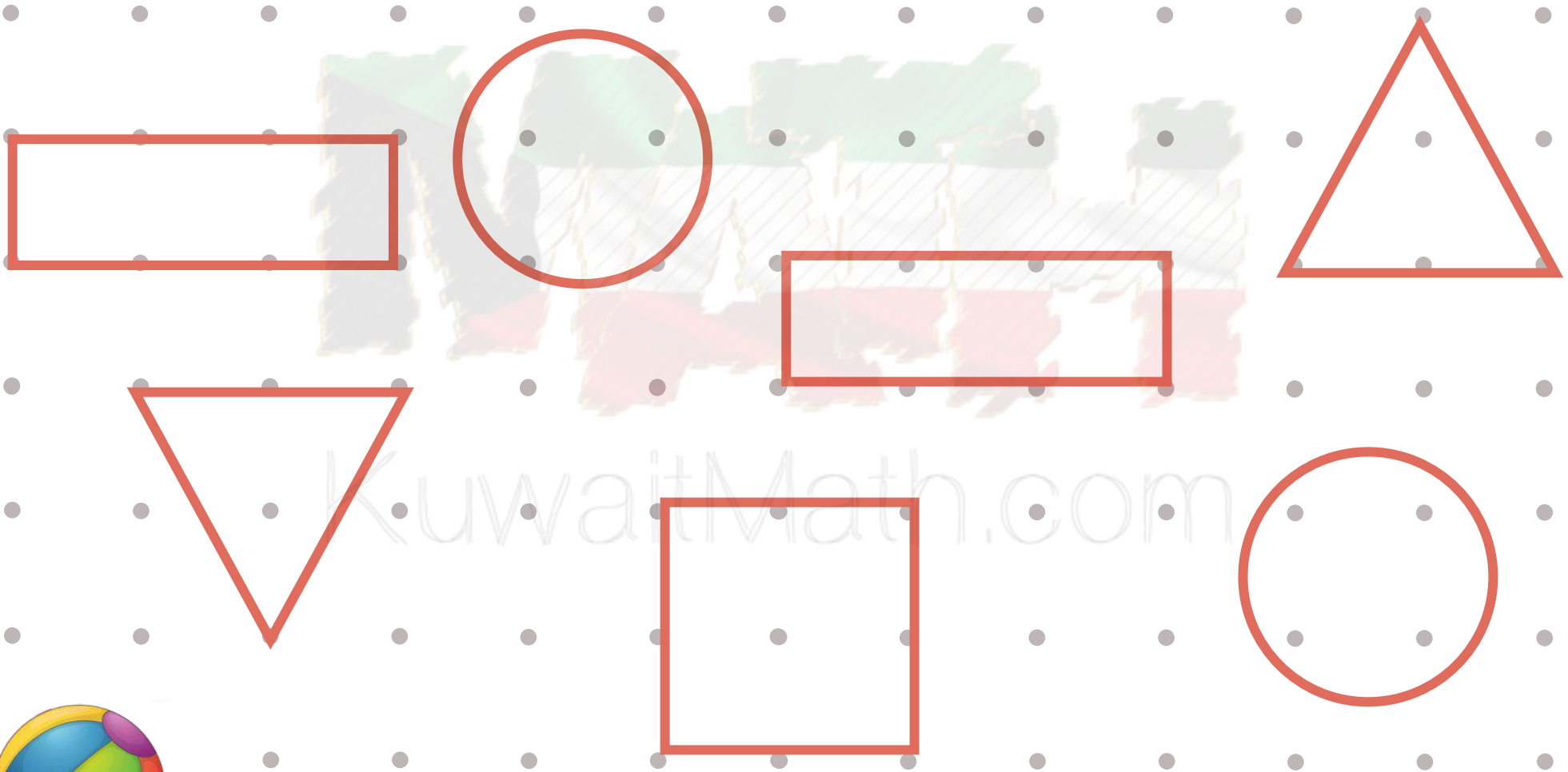
# أشكال منتظمة



بند (٣-٥)




# لون كل شكلين متطابقين بالشكل نفسه






# حوظ الشكل الذي يطابق الشكل الأول



KuwaitMath.com



# ارسم شكلاً مطابقاً الشكل المرسوم



KuwaitMath.com

# تكوين أشكال


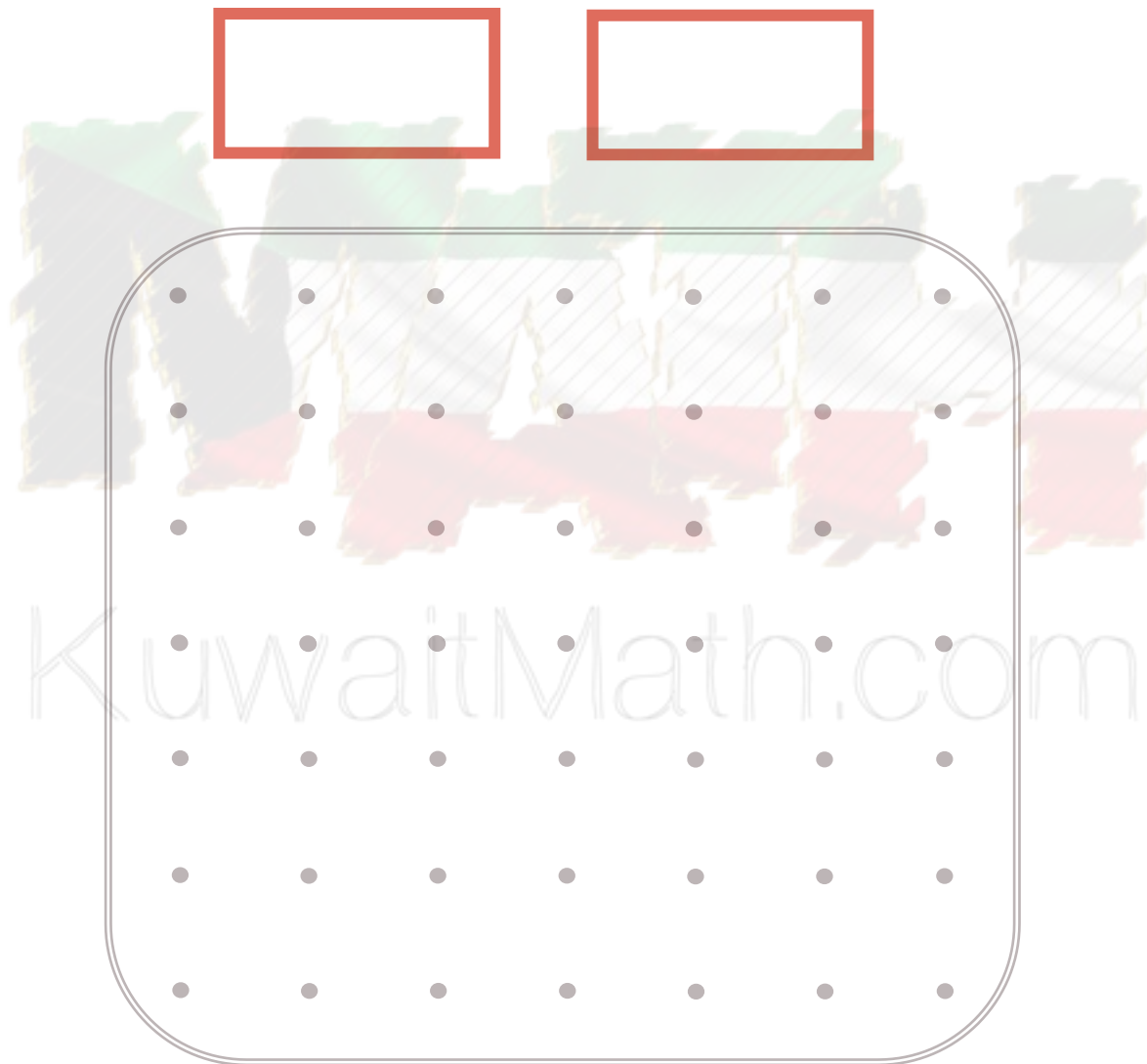
بند (٤-٥)





KuwaitAlMia



# استخدم الأشكال الهندسية البسيطة للحصول على المربع



# استخدم الأشكال الهندسية البسيطة للحصول على المربع




# في أي من المجموعات التالية يمكن تكوين المربع ؟

## فسر ذلك باستخدام الشبكة.



KuwaitMath.com





# أجب عن الأسئلة التالية من خلال الرسم الموضح

كم عدد كل  ؟ —

كم عدد كل  ؟ —


كم عدد كل  ؟ —

كم عدد كل  ؟ —



كون شكلاً جميلاً باستخدام الأشكال الهندسية البسيطة (مستطيل – مثلث


– مربع – دائرة) بالقياسات التي تريدها، ويمكن التكرار.



KuwaitMath.com

# • مراجعة الوحدة الخامسة

بند (٥-٥)

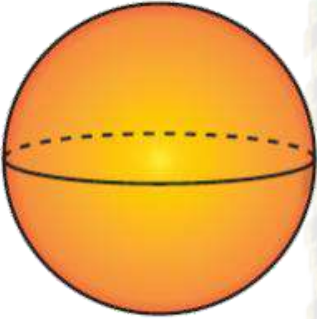
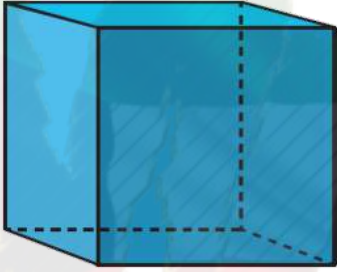




KuwaitAlLiyah



# استخدم المجسمات . أكمل








			
			اسم الجسم
			عدد الأوجه
			عدد الرؤوس
			عدد الأضلاع



# اختر الإجابة الصحيحة بوضع

شكل هندسي ليس له حروف ولا أوجه ولا

رؤوس، هو:





# اختر الإجابة الصحيحة بوضع

عدد المربعات في هذا الشكل هو :






٥

KuwaitMath.com

٣

٤





# اختر الإجابة الصحيحة بوضع

الشكلان المتطابقان هما:

