



وزارة التربية
الإدارة العامة لمنطقة الأحمدية التعليمية
مدرسة هدية الابتدائية بنين



• الهدية (محم)

للصف الثاني



• أ. سماح محمد

إعداد المعلمة

• أ. شيمه المطيري

إشراف رئيسة القسم


• الجميع ينتج لا يزيد على
العدد ٢٠ بدون إضافة التنسبية



بند (٣-١)



استخدم لتجمع



$$\underline{\quad} = 6 + 7 \star$$

$$\underline{\quad} = 4 + 11 \star$$

$$\underline{\quad} = 5 + 13 \star$$

اكتب المجموع

عَشْرَاتٌ ^{٢٤}	أَحَادٌ ^{٢٤}
٤	٢
	٥ +



KuwaitMath.com

اكتب المجموع

عَشْرَات ^{٢٤}	أَحَاد ^{٢٤}
٦	٣ +



KuwaitMath.com

اكتب المجموع

عَشْرَات ^{٢٥}	أَحَاد ^{٢٥}
)	٤) +



استخدم خط الأعداد لتجمع



KuwaitMath.com



$$\underline{\quad} = 6 + 16 \star$$

استخدم خط الأعداد لتجمع



KuwaitMath.com



$$\underline{\quad} = 3 + 12 \star$$

• الجبجبي بنكويين الطنيرة



بند (٢-٣)



حوط العددين اللذين يكونان العشرة ثم

أوجد الناتج



$$\begin{array}{r} 5 \\ 4 \\ 5 \\ \hline \end{array} +$$



$$\begin{array}{r} 9 \\ 2 \\ 3 \\ \hline \end{array} +$$



KuwaitMath.com

حوظ العددين اللذين يكونان العشرة ثم

أوجد الناتج



$$\underline{\quad} = 3 + 7 \star$$

KuwaitMath.com

$$\underline{\quad} = 4 + 6 \star$$

استخدم  وَ   لتكون عشرة،



ثم اكتب المجموع

$$\underline{\hspace{2cm}} = 2 + 9$$

$$\underline{\hspace{2cm}} = \underline{\hspace{2cm}} +) \cdot$$

استخدم  وَ   لتكون عشرة،



ثم اكتب المجموع

$$\underline{\hspace{2cm}} = 4 + 8$$

$$\underline{\hspace{2cm}} = \underline{\hspace{2cm}} +) \cdot$$

استخدم  وَ   لتكون عشرة،



ثم اكتب المجموع

$$\underline{\hspace{2cm}} = 5 + 5$$

$$\underline{\hspace{2cm}} = \underline{\hspace{2cm}} + \underline{\hspace{2cm}}$$

استخدم  وَ   لتكون عشرة،



ثم اكتب المجموع

$$\underline{\hspace{2cm}} = 1 + 1$$

$$\underline{\hspace{2cm}} = \underline{\hspace{2cm}} +) \cdot$$



• الطرح من عدد أكبر على
العدد • بدون إكمال التسمية



بند (٣-٤)





اشطب لتطرح

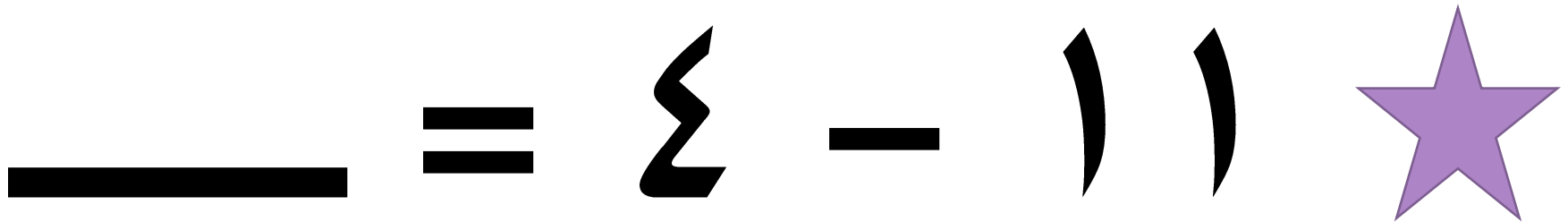


$$\underline{\quad} = \{ - \} \star$$

اشطب لتطرح



KuwaitMath.com



اكتب الفرق



$$\underline{\quad} =) -) \star$$

$$\underline{\quad} =) -) \star$$

عَشْرَات	أَحَاد
١	٣
)-

عَشْرَات	وَحَدَات

عَشْرَات	أَحَاد
	٣
)-

عَشْرَات	وَحَدَات

اكتب الفرق



$$\underline{\quad} = 2 - 1 \star$$

$$\underline{\quad} = 2 - 1 \star$$

عَشْرَات	أَحَاد
1	1 2

عَشْرَات	وَحَدَات

عَشْرَات	أَحَاد
	1 2

عَشْرَات	وَحَدَات

استخدم خط الأعداد ، ثم اكتب الفرق.



KuwaitMath.com

$$\underline{\quad} = 9 \star$$

استخدم خط الأعداد ، ثم اكتب الفرق.



$12 - 9 = 3$ ☆

KuwaitMath.com

استخدم خط الأعداد ، ثم اكتب الفرق.



٧

٢

—



KuwaitMath.com

استخدم خط الأعداد ، ثم اكتب الفرق.



٤



٤ -



KuwaitMath.com

• الربط بين عبارة الجمع و عبارة الطرح



بند (٣-٤)



صل العبارات ذات الصلة.

$$11 = 2 + 9$$



$$11 = 6 + 5$$

$$6 = 7 - 13$$



$$9 = 2 - 11$$

$$13 = 8 + 5$$



$$13 = 7 + 6$$

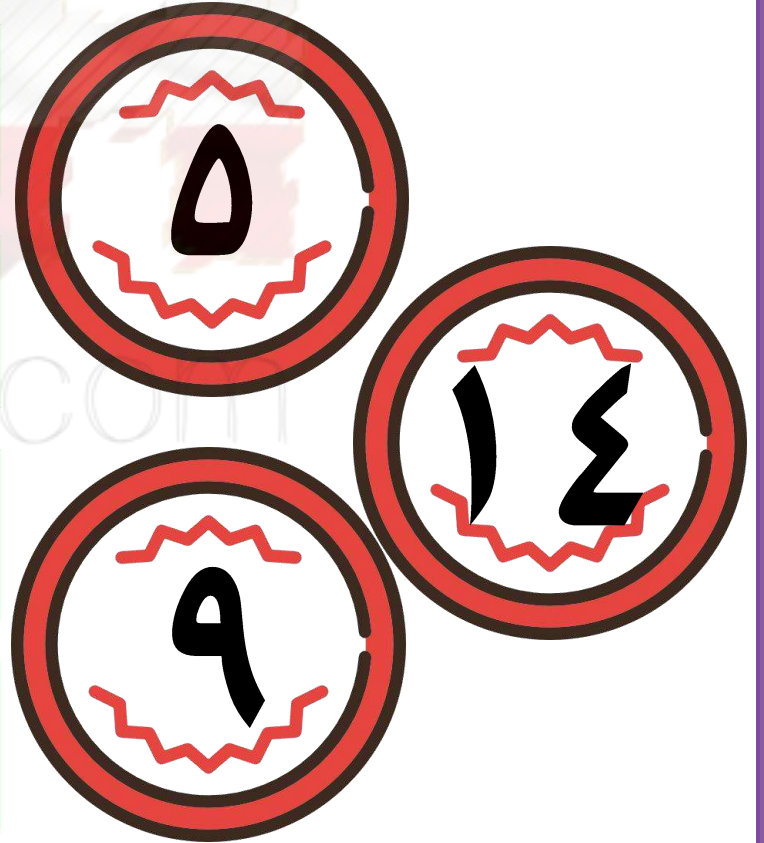
$$5 = 6 - 11$$



$$8 = 5 - 13$$



استخدم الأعداد في كتابة عبارتي جمع و عبارتي طرح ذات صلة .

<input type="text"/>	=	<input type="text"/>	+	<input type="text"/>
<input type="text"/>	=	<input type="text"/>	+	<input type="text"/>
<input type="text"/>	=	<input type="text"/>	-	<input type="text"/>
<input type="text"/>	=	<input type="text"/>	-	<input type="text"/>



استخدم الأعداد في كتابة عبارتي جمع و عبارتي طرح ذات صلة .

<input type="text"/>	=	<input type="text"/>	+	<input type="text"/>
<input type="text"/>	=	<input type="text"/>	+	<input type="text"/>
<input type="text"/>	=	<input type="text"/>	-	<input type="text"/>
<input type="text"/>	=	<input type="text"/>	-	<input type="text"/>



• كون عبارات جمع و طرح ذات صلة .



=

+

=

+

=

-

=

-

كون عبارات جمع و طرح ذات صلة .



ب

=

+

=

+

=

-

=

-

مراجعة الوحدة (٤)



بند (٤-٥)



اجمع ما عدد كل السيارات ؟

سيارة = +



ما عدد السيارات المتبقية ؟

سيارة

— = — — —



اكتب عائلة الحقائق للأعداد التالية:



-

-

+

+

KuwaitMath.com

أوجد الناتج ، ثم صل بالعبارة ذات

الصلة المناسبة .

$$\underline{\hspace{2cm}} = 9 + 8 \bullet$$

$$\bullet \underline{\hspace{2cm}} = 8 - 15$$

$$\underline{\hspace{2cm}} = 9 + 4 \bullet$$

$$\bullet \underline{\hspace{2cm}} = 6 - 12$$

$$\underline{\hspace{2cm}} = 8 + 7 \bullet$$

$$\bullet \underline{\hspace{2cm}} = 4 - 13$$

$$\underline{\hspace{2cm}} = 6 + 6 \bullet$$



$$\bullet \underline{\hspace{2cm}} = 8 - 17$$

KuwaitMath.com




اختر الإجابة الصحيحة بوضع


عبارة الطرح ذات الصلة المناسبة لهذا التمثيل هي —




$$4 = 4 - 8$$



$$4 = 8 - 12$$



$$5 = 3 - 8$$





اختر الإجابة الصحيحة بوضع

رمز العدد الناقص هو —

$$\begin{array}{r} \text{٨} \\ \square - \\ \hline \square \\ \text{٦} \end{array}$$

$$\begin{array}{r} \text{٨} \\ \text{٦} - \\ \hline \square \end{array}$$

$$\begin{array}{r} \square + \\ \hline \square \\ \text{٨} \end{array}$$

$$\begin{array}{r} \text{٦} \\ \square + \\ \hline \square \\ \text{٨} \end{array}$$

