

الأعداد الكليّة من ٦ إلى ١٢ بما في ذلك الصّفْر (٠)

Whole Numbers From 6 to 12

Including Zero (0)

الوحدّة الثالثة

Unit 3

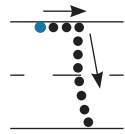
أصديقائي My Friends



# Number 6

# العدد ٦

الدَّرْس  
١-٣



اُكْتُبْ ٦

Handwriting practice lines for the number 6. The page is divided into two horizontal sections. The top section contains a large, faint background image of a school building. On the right side of this section, there is a tracing guide for the number 6 with arrows and a small orange flower icon. Below the tracing guide are several sets of horizontal lines (top, middle, bottom) for practicing writing the number 6.

اُكْتُبْ رَمَزَ الْعَدَدِ.



\_\_\_\_\_

-----

\_\_\_\_\_



\_\_\_\_\_

-----

\_\_\_\_\_



\_\_\_\_\_

-----

\_\_\_\_\_


٣ لَوْنُ ٦ كُرَاتٍ.



٤ أَكْمِلْ. اكْتُبْ رَمَزَ الْعَدَدِ.

\_\_\_\_\_ ، ٥ ، ٤  
- - -  
\_\_\_\_\_

٥ حَوِّطِ الْمَجْمُوعَةَ الْأَكْثَرَ، وَاكْتُبْ رَمَزَ الْعَدَدِ،  
ثُمَّ قَارِنْ مُسْتَخْدِمًا الرُّمُوزَ (< أَوْ > أَوْ =).



\_\_\_\_\_  
- - -  
\_\_\_\_\_



\_\_\_\_\_  
- - -  
\_\_\_\_\_





٩ اسْتَحْدِمْ ●● وَاغْرِضْ طُرُقًا لِتُكَوِّنَ الْعَدَدَ ٦، ثُمَّ سَجِّلْ هَذِهِ الطُّرُقَ.

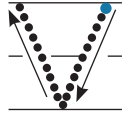
الْكُلُّ	صَفْرَاءُ	حَمْرَاءُ
٦	○	١

KuwaitMath.com

# Number 7

# العدد ٧

الدَّرْس  
٢-٣




سَبْعَةٌ




١. اُكْتُبْ ٧.

Handwriting practice lines for the number 7. The first row shows a dotted 7 with arrows and a solid 7 with arrows. The second row shows a dotted 7. The third row is blank. The fourth row is blank. The fifth row is blank.

٢. اُكْتُبْ رَمَزَ الْعَدَدِ.



Handwriting practice lines for the number 7.




Handwriting practice lines for the number 7.

٣ اسْتَخْدِمِ لَوْنَيْنِ (أَحْمَرَ وَأَزْرَقُ).



لَوْنٍ عَنَاصِرِ الْمَجْمُوعَةِ الْأَقَلِّ بِاللَّوْنِ  
لَوْنٍ عَنَاصِرِ الْمَجْمُوعَةِ الْأَكْثَرِ بِاللَّوْنِ




٤ اكْمَلِ. اُكْتُبِ رَمْزَ الْعَدَدِ.

\_\_\_\_\_ ، \_\_\_\_\_ ، ٥ ، ٤ ، ٣  
\_\_\_\_\_ ، \_\_\_\_\_ ، \_\_\_\_\_ ، \_\_\_\_\_ ، \_\_\_\_\_


٥ اكْمَلِ. حَدِّدْ مَوْقِعَ الْعَدَدِ ٧ عَلَى خَطِّ الْأَعْدَادِ.



٦ اِسْتَكْمِلْ رَسْمَ الْعُنَاصِرِ بِحَسَبِ الْعَدَدِ الْمَوْضِحِ رَمْزُهُ.



٧



٦

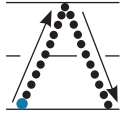
٧ اِسْتَخْدِمْ ●● واَعْرِضْ طُرُقًا لِتُكَوِّنَ الْعَدَدَ ٧، ثُمَّ سَجِّلْ هَذِهِ الطُّرُقَ.

الْكُلُّ	صَفْرَاءُ	حَمْرَاءُ
٧	٦	١


# Number 8

# العدد ٨

الدرس  
٣-٣



ثمانية



١) اكتب ٨



٢) اكتب رمز العدد.



\_\_\_\_\_  
\_\_\_\_\_  
\_\_\_\_\_



\_\_\_\_\_  
\_\_\_\_\_  
\_\_\_\_\_




أَكْمِلْ.




٤ أَكْمِلْ. حَدِّدْ مَوْقِعَ الْعَدَدِ ٨ عَلَى خَطِّ الْأَعْدَادِ.




٥ اِسْتَكْمِلْ رَسْمَ الْعُنَاصِرِ بِحَسَبِ الْعَدَدِ الْمَوْضِحِ رَمُزُهُ.



٧



٨



٦

٦ اسْتَخْدِمْ ●● واغْرِضْ طُرُقاً لِتُكُونَ الْعَدَدَ ٨، ثُمَّ سَجِّلْ هَذِهِ الطُّرُقَ.

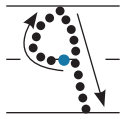
الْكُلُّ	صَفْرَاءُ	حَمْرَاءُ
∧	V	∟

KuwaitMath.com


# Number 9

# العدد ٩

الدَّرْسُ  
٣-٤



٩  
تِسْعَةٌ



اُكْتُبْ ٩

Handwriting practice lines for the number 9. The first row contains a solid 9 with a stroke arrow, a dotted 9, and another dotted 9. The second row contains a dotted 9. The rest of the lines are blank for practice.





اُكْتُبْ رَمَزَ الْعَدَدِ.



Blank handwriting lines for writing the number 9.



Blank handwriting lines for writing the number 9.

	 حَوِّطُ ٩
	 حَوِّطُ ٨


٤ أَكْمِلْ مُسْتَحْدِمًا الرُّمُوزَ (< أَوْ > أَوْ =).

٨ □ ٩


٥ أَكْمِلْ. حَدِّدْ مَوْقِعَ الْعَدَدِ ٩ عَلَى خَطِّ الْأَعْدَادِ.





٦ اِسْتَكْمِلْ رَسْمَ الْعُنَاصِرِ بِحَسَبِ الْعَدَدِ الْمَوْضِحِ رَمْزُهُ.



٩



٨

استخدم   واغرض طرُقاً لتكوّن العدد ٩، ثم سجّل هذه الطرُق.

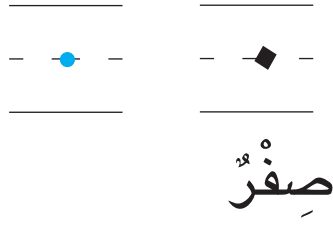
الكلُّ	صَفراءُ	حَمراءُ
٩	٨	١



# الصفْرُ ٠

الدَّرْسُ  
٣-٥


## Zero 0





١ اُكْتُبْ



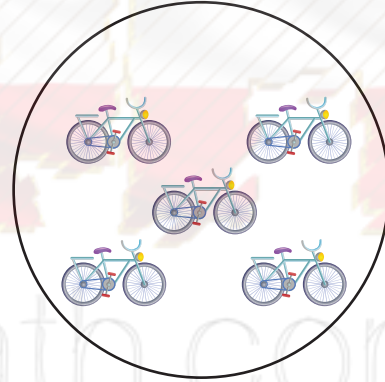
٢ اُكْتُبْ رَمَزَ الْعَدَدِ.



٦ ضع علامة ✓ أسفل المجموعة الأقل.



٧ ضع علامة ✓ أسفل المجموعة الأكثر.



٥ أكمل. حدّد موقع الصّفْر على خطّ الأعداد.

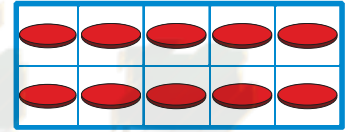


# Number 10

# العدد ١٠

الدرس  
٦-٣

١، ٢، ٣، ٤، ٥، ٦، ٧، ٨،  
٩، ١٠  
عندك ١٠ أصابع.




عَشْرَةٌ


١) اُكْتُبْ ١٠




٢) اُكْتُبْ رَمَزَ الْعَدَدِ.




اُكْتُبْ رَمَزَ عَدَدِ الْعُنَاصِرِ فِي كُلِّ مَجْمُوعَةٍ، ثُمَّ قَارِنُ بَيْنَهَا  
مُسْتَحْدِمًا الرُّمُوزَ (< أَوْ > أَوْ =).




\_\_\_\_\_  
- - -  
\_\_\_\_\_



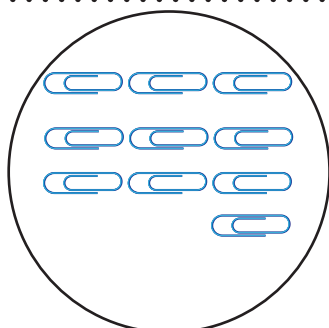
\_\_\_\_\_  
- - -  
\_\_\_\_\_



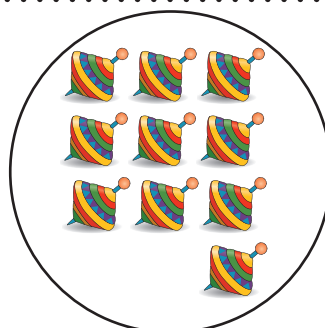
\_\_\_\_\_  
- - -  
\_\_\_\_\_



\_\_\_\_\_  
- - -  
\_\_\_\_\_



\_\_\_\_\_  
- - -  
\_\_\_\_\_




\_\_\_\_\_  
- - -  
\_\_\_\_\_



٤ حَدِّدْ مَوْقِعَ الأَعْدَادِ مِنْ ٠ إِلَى ١٠ عَلَى خَطِّ الأَعْدَادِ.



٥ اِسْتَكْمِلْ رَسْمَ العِنَاصِرِ بِحَسَبِ العَدَدِ المَوْضِعِ رَمُزُهُ.





١٠



٨



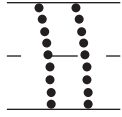
استخدم   واعرض طرُقاً لتكوّن العدد ١٠، ثمّ سجّل هذه الطرُق.

الكلُّ	صفراءُ	حمراءُ
١٠	٩	١

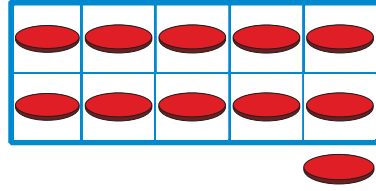
# Number 11

# العدد ١١


الدَّرْس  
٧-٣



أَحَدَ عَشَرَ



اُكْتُبْ رَمَزَ الْعَدَدِ. حُلِّ كَمَا فِي الْمِثَالِ.



\_\_\_\_\_  
\_\_\_\_\_  
\_\_\_\_\_



\_\_\_\_\_  
\_\_\_\_\_  
\_\_\_\_\_

١٦ أَكْمِلْ مُسْتَخْدِمًا الرُّمُوزَ (< أَوْ > أَوْ =).

$10 \square 11$

$8 \square 7$

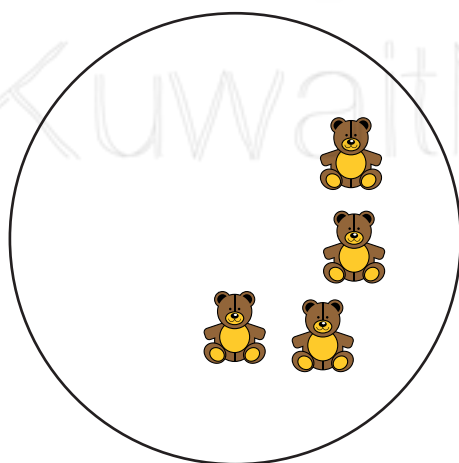
$11 \square 9$

$6 \square 6$

١٧ حَدِّدْ مَوْقِعَ الْعَدَدِ ١١ عَلَى خَطِّ الْأَعْدَادِ.



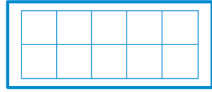
١٨ اسْتَكْمِلْ رَسْمَ الْعُنَاصِرِ بِحَسَبِ الْعَدَدِ الْمَوْضِحِ رَمُزُهُ.

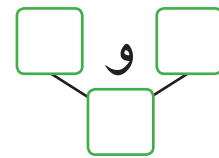
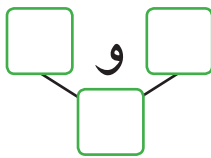
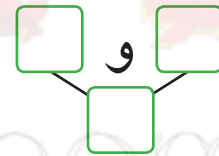
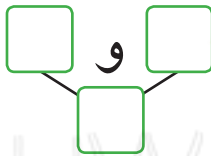
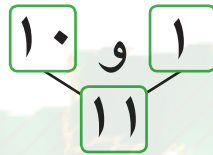
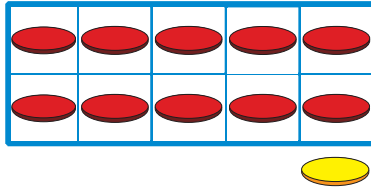


١١



١٠

٥ اسْتِخْدِمِ ●● وَ  . أَوْجِدْ طُرُقًا لِتُكَوِّنَ الْعَدَدَ ١١ ، ثُمَّ سَجِّلْ هَذِهِ الطُّرُقَ.

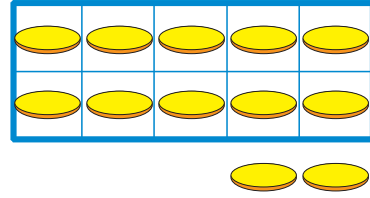
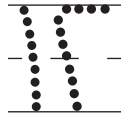


هَلْ يُمَكِّنُ تَكْوِينُ الْعَدَدِ ١١ بِطَرِيقَةٍ أُخْرَى؟

# Number 12


# العدد ١٢

الدَّرْسُ  
٨-٣



إِثْنَا عَشَرَ

اُكْتُبْ رَمَزَ الْعَدَدِ. حُلِّ كَمَا فِي الْمِثَالِ.




KuwaitMath.com



\_\_\_\_\_

-----

\_\_\_\_\_



\_\_\_\_\_

-----

\_\_\_\_\_




٢ أكمِلْ مُسْتَخْدِمًا الرُّمُوزَ (< أَوْ > أَوْ =).

٦	<input type="text"/>	١١	١٢	<input type="text"/>	١٠
١٢	<input type="text"/>	١٢	١١	<input type="text"/>	١٢


٣ أكمِلْ. حدِّدْ مَوْقِعَ العَدَدِ ١٢ عَلَى خَطِّ الأَعْدَادِ.



٤ اسْتَكْمِلْ رَسْمَ العِنَاصِرِ بِحَسَبِ العَدَدِ المَوْضِحِ رَمُزُهُ.




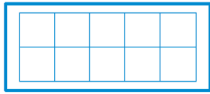
١٢

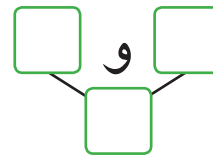
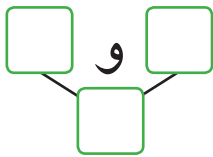
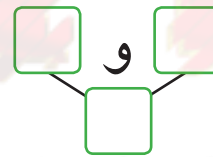

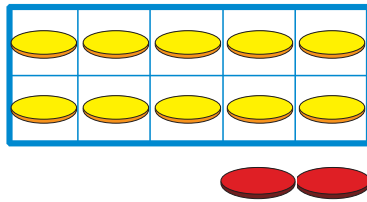


١١



١٠

استخدم  و  . أوجد طرقاً لتكون العدد ١٢، ثم سجّل هذه الطرق.


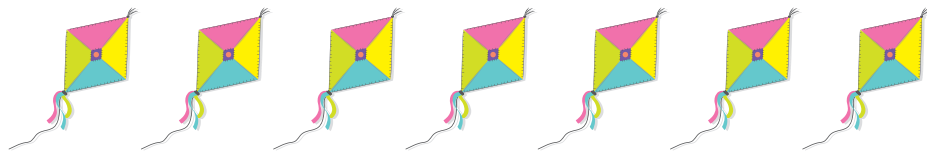


هل يمكن تكوين العدد ١٢ بطريقة أخرى؟

# مُراجَعَةُ (أ) الوَحْدَةِ الثَّالِثَةِ

## مُراجَعَةُ الأَعْدَادِ مِنَ العَدَدِ ٦ إلى العَدَدِ ٩


اُكْتُبْ رَمَزَ العَدَدِ.




حَوِّطِ العَدَدَ المُناسِبَ.




٩ ٨ ٧ ٦

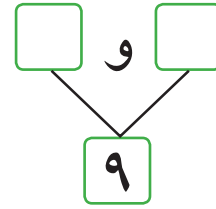
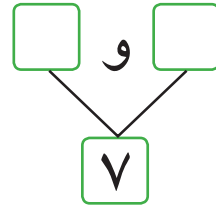
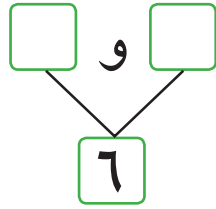
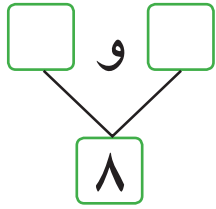


٩ ٨ ٧ ٦






٩ ٨ ٧ ٦

٣ اسْتَحْدِمِ  لِتَكْوِينِ الْأَعْدَادِ بِطُرُقٍ مُخْتَلِفَةٍ، ثُمَّ سَجِّلْ هَذِهِ الطُّرُقَ.



٤ اُكْتُبْ رَمْزَ الْعَدَدِ، ثُمَّ اكْمِلْ مُسْتَحْدِمًا الرُّمُوزَ (< أَوْ > أَوْ =).



\_\_\_\_\_

-----

\_\_\_\_\_

\_\_\_\_\_

-----

\_\_\_\_\_

\_\_\_\_\_

-----

\_\_\_\_\_

\_\_\_\_\_


-----

\_\_\_\_\_


٥ أكْمِلْ. حَدِّدْ مَوْقِعَ الأَعْدَادِ مِنْ ٦ إِلَى ٩ عَلَى خَطِّ الأَعْدَادِ.




٦ اسْتَكْمِلْ رَسْمَ العَنَاصِرِ بِحَسَبِ العَدَدِ المَوْضَحِ رَمْزُهُ.



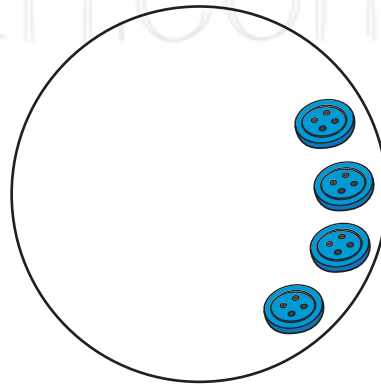
٩



٦



٧



٨

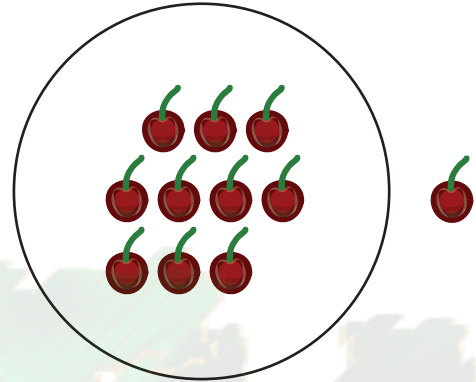
# مُراجَعَةُ (ب) الوَحْدَةِ الثَّالِثَةِ

## مُراجَعَةُ الأَعْدَادِ مِنْ ١٠ إلى ١٢، بِمَا فِيهَا الصَّفْرُ

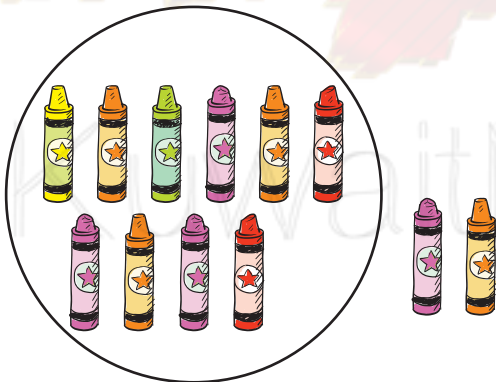
اُكْتُبْ رَمَزَ العَدَدِ.



\_\_\_\_\_  
\_\_\_\_\_  
\_\_\_\_\_



\_\_\_\_\_  
\_\_\_\_\_  
\_\_\_\_\_



\_\_\_\_\_  
\_\_\_\_\_  
\_\_\_\_\_



\_\_\_\_\_  
\_\_\_\_\_  
\_\_\_\_\_


٢ أُرْسَمَ مَجْمُوعَةٌ مِنَ الْعُنَاصِرِ بِحَسَبِ الْعَدَدِ الْمَوْضِحِ رَمُزُهُ.

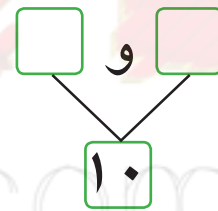
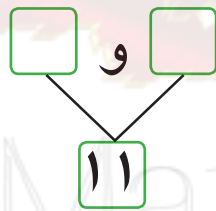
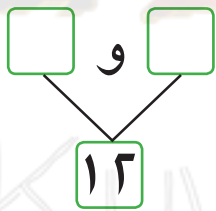
--	--	--

١٢

١١

١٠

٣ اسْتَخْدِمِ  لِتَكْوِينِ الْأَعْدَادِ بِطَرُقٍ مُخْتَلِفَةٍ، ثُمَّ سَجِّلْ هَذِهِ الطُّرُقَ.



٤ اكْمِلْ.



٥ قَارِنِ مُسْتَخْدِمًا الرُّمُوزَ (< أَوْ > أَوْ =).

١٢  ١١ | ١٠  ١١



٦ أكْمِلْ. حَدِّدْ مَوْقِعَ الأَعْدَادِ ٠، ١٠، ١١، ١٢ عَلَى خَطِّ الأَعْدَادِ.




٧ اسْتَكْمِلْ رَسْمَ العِنَاصِرِ بِحَسَبِ العَدَدِ المَوْضِحِ رَمْزُهُ.



١١



١٠



١٢