

الأعداد الكليّة من ١ إلى ٥
Whole Numbers From 1 to 5

الوحدة الثانية
Unit 2

My Family

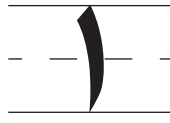
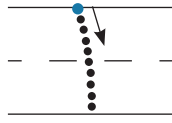
عائلي



Number 1

العدد ١

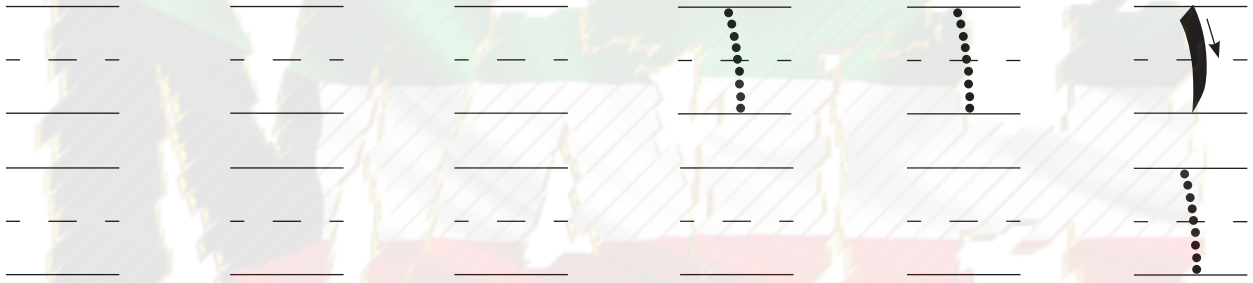
الدَّرْس
١-٢



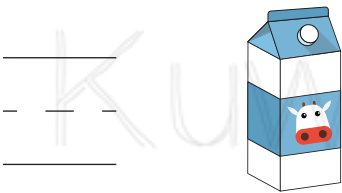
واحد







١ اُكْتُبْ ١



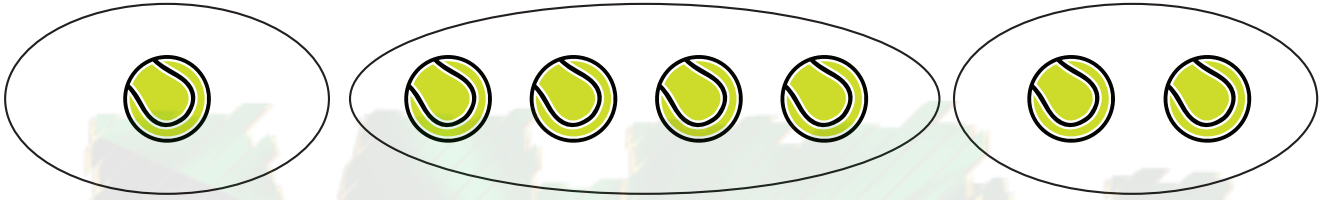
٢ اُكْتُبْ رَمَزَ الْعَدَدِ.



٣ لَوْنُ  وَاحِدًا.



١



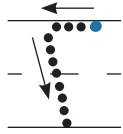
٥ قُمْ بِنَشَاطٍ لِتَمَثِيلِ الْعَدَدِ ١
(رَسْمٌ - سَرْدُ قِصَّةٍ - مَشْرُوعٌ).

KuwaitMath.com

Number 2

العدد ٢


الدَّرْسُ ٢-٢



اثنان



اكتب ٢






اكتب رمز العدد.



لون ائنتين.



٦



٥ قُمْ بِنَشَاطٍ لِتَمَثِيلِ الْعَدَدِ ٦
(رَسْمٌ - سَرْدُ قِصَّةٍ - مَشْرُوعٌ).

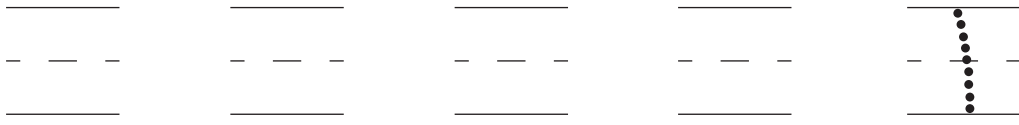
KuwaitMath.com

Numbers 1 and 2

العددان ١، ٢

الدَّرْس
٣-٢

١ اُكْتُبْ ١



٢ اُكْتُبْ ٢



٣ اُكْتُبْ رَمَزَ الْعَدَدِ.



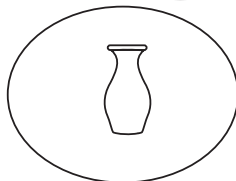
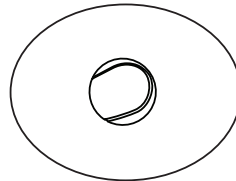
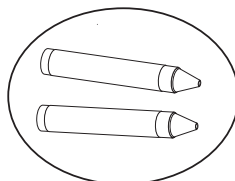


٤ اسْتَخْذِمِ لَوْنَيْنِ.



• لَوْنٌ عَنَّا صِرَ الْمَجْمُوعَةُ الَّتِي تَحْوِي عُنْصُرًا وَاحِدًا (شَيْئًا وَاحِدًا) بِاللَّوْنِ





• لَوْنٌ عَنَّا صِرَ الْمَجْمُوعَةُ الَّتِي تَحْوِي عُنْصُرَيْنِ (شَيْئَيْنِ) بِاللَّوْنِ



٥ ضَعْ عَلامَةَ أَسْفَلَ المَجموعَةِ الأَقَلِّ.




٦ ضَعْ عَلامَةَ أَسْفَلَ المَجموعَةِ الأَكْثَرِ.



٧ اُكْتُبْ عَدَدَ عَناصِرِ المَجموعَتَيْنِ، ثُمَّ قارِنُ بَيْنَهُما مُستَخدِماً الرُّموزَ (< أو > أو =).


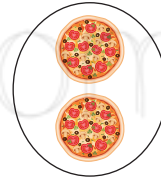


- - -



- - -

١ < ٢



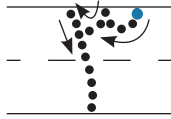
- - -



Number 3

العدد ٣

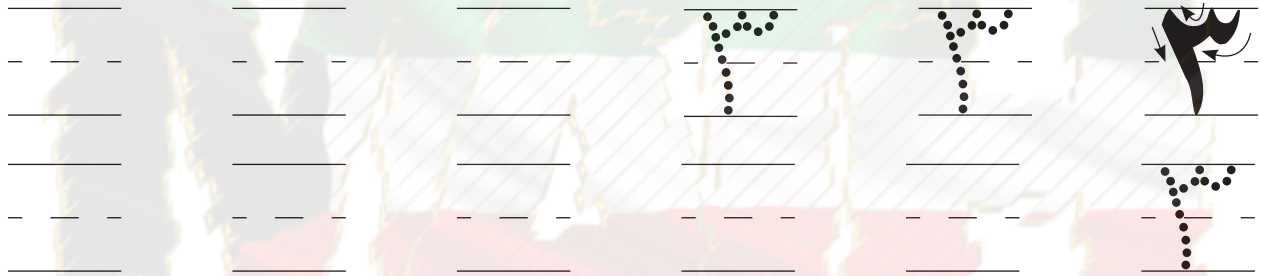
الدَّرْس ٢-٤



ثَلَاثَةٌ



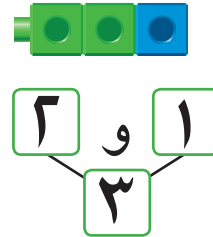
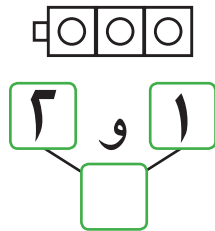
١ اُكْتُبِ الْعَدَدَ ٣



٢ اُكْتُبِ رَمَزَ الْعَدَدِ.





٣ اِسْتَخْدِمِ لَوْنَيْنِ لَوْنَيْنِ . اَوْجِدْ طَرِيقًا لِتُكَوِّنَ الْعَدَدَ ٣





هَلْ يُمَكِّنُ تَكْوِينُ الْعَدَدِ ٣ بِطَرِيقٍ أُخْرَى؟

٤ ضَعْ عَلامَةَ ✓ أَسْفَلَ المَجموعَةِ الأقلِّ.



٥ ضَعْ عَلامَةَ ✓ أَسْفَلَ المَجموعَةِ الأكثرِ.



٦ اكْمِلْ. اكتب رَمزَ العددِ.



٧ قُمْ بِنشاطٍ لِتمثيلِ العددِ ٣
(رَسْمٌ - سَرْدٌ قِصَّةٌ - مَشروعٌ).



Numbers 1, 2, 3

الأعداد ١، ٢، ٣



١ اكتب العدد ١

Four sets of handwriting lines (top, middle dashed, bottom) for practicing the number 1.




٢ اكتب العدد ٢

Four sets of handwriting lines for practicing the number 2.



٣ اكتب العدد ٣

Four sets of handwriting lines for practicing the number 3.



٤ اكتب رمز العدد.


KuwaitMath.com



A dotted line for tracing practice.



A dotted line for tracing practice.



Four sets of handwriting lines for practicing the symbols for 1, 2, and 3.

كَمْ عَدَدُ الْأَلْعَابِ؟



أَكْمِلْ. اُكْتُبْ رَمَزَ الْعَدَدِ.

٣

,

,

١

٧ أَكْمِلْ.

الْعَدَدُ ٢ قَبْلَ الْعَدَدِ □

الْعَدَدُ □ بَعْدَ الْعَدَدِ ٢

الْعَدَدُ ٢ يَقَعُ بَيْنَ الْعَدَدِ □ وَالْعَدَدِ □


٨ حَدِّدْ مَوْقِعَ الْعَدَدَيْنِ ٢، ٣ عَلَى خَطِّ الْأَعْدَادِ.



٩ اسْتَكْمِلْ رَسْمَ الْعُنَاصِرِ بِحَسَبِ الْعَدَدِ الْمَوْضِحِ رَمْزُهُ.

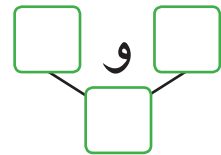
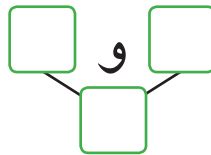
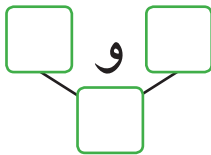


٣



٢

١٥ اسْتَخْذِمِ لَوْنَيْنِ




Number 4

العدد ٤

الدَّرْسُ
٦-٢



٤
أرْبَعَةٌ




١ اُكْتُبِ الْعَدَدَ ٤



٢ اُكْتُبِ رَمَزَ الْعَدَدِ.




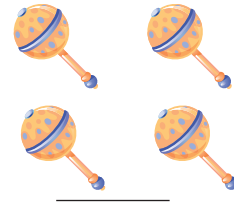
٣ حَوِّطِ الْمَجْمُوعَةَ الْأَكْثَرَ، وَاكْتُبِ رَمَزَ الْعَدَدِ.







٤ حوِّطِ الْمَجْمُوعَةَ الْأَقَلَّ، وَاكْتُبِ رَمْزَ الْعَدَدِ.





٥ لَوْنِ الْمَكَّعَاتِ لِإِجَادِ طُرُقِ تَكْوِينِ الْعَدَدِ ٤

اسْتَخْدِمِ لَوْنَيْنِ  .



هَلْ يُمَكِّنُ تَكْوِينُ الْعَدَدِ ٤ بِطُرُقٍ أُخْرَى؟

٦ قُمْ بِنَشَاطٍ لِتَمَثِيلِ الْعَدَدِ ٤

(رَسْمٌ - سَرْدُ قِصَّةٍ - مَشْرُوعٌ).

الأعداد ١، ٢، ٣، ٤

Numbers 1, 2, 3, 4

عُدَّ، ثُمَّ اكَتُبْ رَمَزَ الْعَدَدِ.









عُدَّ الْأَزْهَارَ، ثُمَّ حَوِّطْ رَمَزَ الْعَدَدِ الْمُنَاسِبِ.

٣

٢

١



٤

٣

٢



٣

٢

١



٤

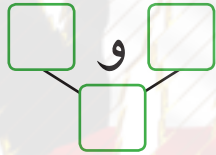
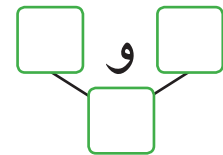
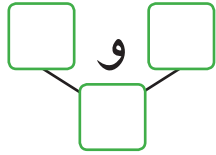
٣

٢



١٢ لَوْنِ الْمَكْعَبَاتِ لِإِجَادِ طُرُقِ تَكْوِينِ الْعَدَدَيْنِ ٣، ٤

اسْتَخْدِمِ لَوْنَيْنِ.  .



٤ اكْمِلْ. اَكْتُبْ رَمَزَ الْعَدَدِ.

KuwaitMath.com
٣ ، ٢ ،

٥ اكْمِلْ.

الْعَدَدُ ٣ قَبْلَ الْعَدَدِ

الْعَدَدُ بَعْدَ الْعَدَدِ ٣

٦ اُكْتُبْ رَمَزَ عَدَدِ الْعُنَاصِرِ فِي الْمَجْمُوعَتَيْنِ، ثُمَّ قَارِنُ بَيْنَهُمَا
مُسْتَخْدِمًا الرُّمُوزَ (< أَوْ > أَوْ =).

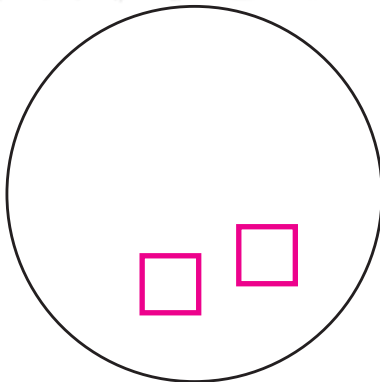




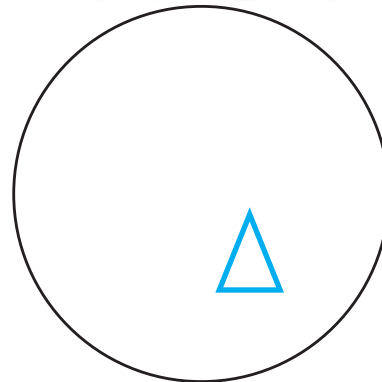
٧ حَدِّدْ مَوْقِعَ الْأَعْدَادِ ٢، ٣، ٤ عَلَى خَطِّ الْأَعْدَادِ.



٨ اسْتَكْمِلْ رَسْمَ الْعُنَاصِرِ بِحَسَبِ الْعَدَدِ الْمَوْضِحِ رَمُزُهُ.



٣

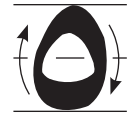
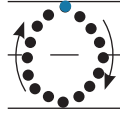


٤

Number 5

العدد ٥

الدرس
٨-٢



خَمْسَةٌ

١) اكتب العدد ٥





٢) اكتب رمز العدد.



٣) استخدم لونين.



- لون عناصر المجموعة الأقل باللون
- لون عناصر المجموعة الأكثر باللون

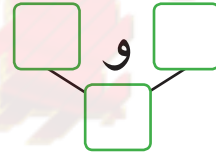
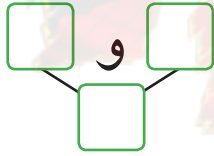
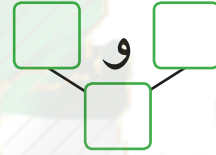
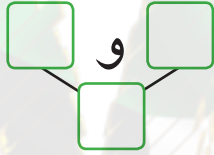


٤ أَكْمِلْ. اُكْتُبْ رَمَزَ الْعَدَدِ.

_____ ، ٤ ، ٣ ، _____

٥ لَوْنِ الْمَكْعَبَاتِ لِإِجَادِ طُرُقِ تَكْوِينِ الْعَدَدِ ٥

اِسْتَحْدِمْ لَوْنَيْنِ. 📷 📷








هَلْ يُمَكِّنُ تَكْوِينُ الْعَدَدِ ٥ بِطَرِيقَةٍ أُخْرَى؟

٦ قُمْ بِنَشَاطٍ لِتَمَثِيلِ الْعَدَدِ ٥





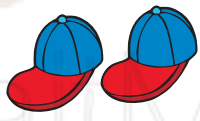

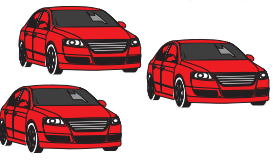








(رَسْمٌ - سَرْدُ قِصَّةٍ - مَشْرُوعٌ).

Numbers 1, 2, 3, 4, 5


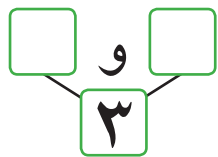
١) اُكْتُبْ رَمَزَ العَدَدِ.

				
_____	_____	_____	_____	_____
_____	_____	_____	_____	_____
_____	_____	_____	_____	_____

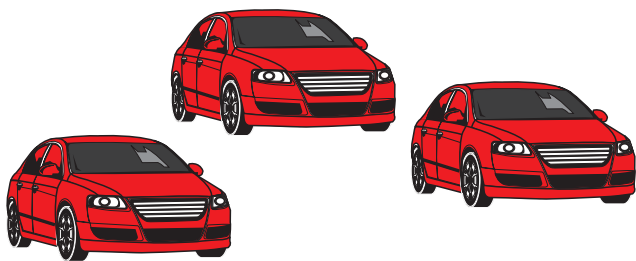
٢) حَوِّطِ المَجْمُوعَاتِ الَّتِي تَدُلُّ عَلَى رَمَزِ العَدَدِ.

			١ وَاحِدٌ
			٢ اِثْنَانِ
			٣ ثَلَاثَةٌ
			٤ أَرْبَعَةٌ
			٥ خَمْسَةٌ



أرسم طريقة واحدة لتكوين كل عدد من الأعداد التالية.



أكتب رمز العدد، ثم حوِّط المجموعة الأكثر.




٥ اُكْتُبْ رَمَزَ الْعَدَدِ، ثُمَّ حَوِّطِ الْمَجْمُوعَةَ الْأَقْلَى.



٦ حَدِّدْ مَوْقِعَ الْأَعْدَادِ ٣، ٤، ٥ عَلَى خَطِّ الْأَعْدَادِ.




٧ اسْتَكْمِلْ رَسْمَ الْعُنَاصِرِ بِحَسَبِ الْعَدَدِ الْمَوْضِحِ رَمُزُهُ.



٤



٣




٥

مُراجَعَةُ الوَحْدَةِ الثَّانِيَةِ الأَعْدَادُ الكُلِّيَّةُ مِنْ ١ إلى ٥


١) اُكْتُبْ رَمَزَ العَدَدِ.







٢) حَوِّطْ رَمَزَ العَدَدِ المُناسِبِ لِكُلِّ مَجْمُوعَةٍ.



٥ ٤ ٣



٥ ٤ ٣



٥ ٤ ٣

٣) صِلْ كُلَّ مَجْمُوعَةٍ بِرَمَزِ العَدَدِ المُناسِبِ.

١



٢



٣

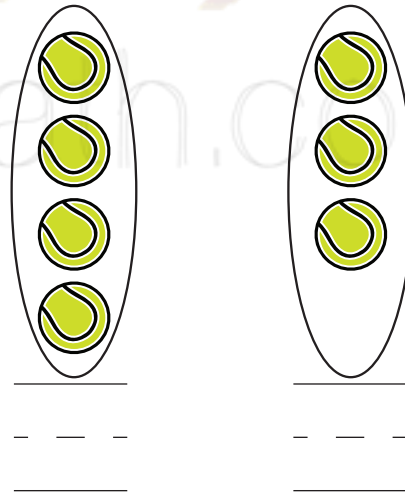
٤



٤ اسْتِخْدِمِ الْمَكْعَبَاتِ ذَاتِ اللَّوْنَيْنِ لِتَكْوِينِ الْأَعْدَادِ بِطَرُقٍ مُخْتَلِفَةٍ

٥ اُكْتُبْ رَمَزَ الْعَدَدِ، ثُمَّ اكْمِلْ

> ٣
 < ٤



٦ حَدِّدْ مَوْقِعَ الْأَعْدَادِ مِنْ ١ إِلَى ٥ عَلَى خَطِّ الْأَعْدَادِ

