



وزارة التربية
الإدارة العامة لمنطقة الأحمدية التعليمية
مدرسة هدية الابتدائية بنين

• وسائل الوحدة (١١) .

للمصف الثاني



• المعلمة : نورة المطيري .

إعداد

• رئيسة القسم : شيمه المطيري

إشراف

KuwaitMath.Com

• ساعة كاملة - (ربع / نصف) ساعة

بند (1-1)



KuwaitMaterial.Com

اكتب الوقت الذي تدل عليه الساعة



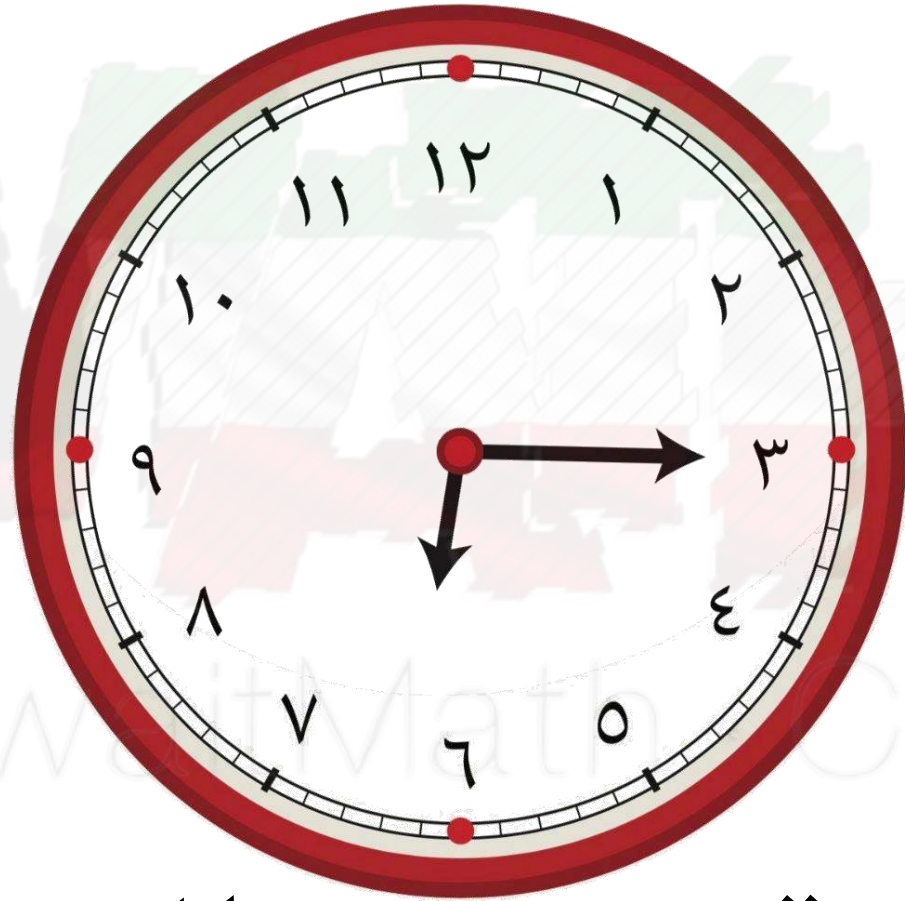
الساعة _____

اكتب الوقت الذي تدل عليه الساعة



الساعة — والنصف

اكتب الوقت الذي تدل عليه الساعة



الساعة — و الربع

حوظ الإجابة الصحيحة

تشير الساعة إلى الثالثة و _____ .

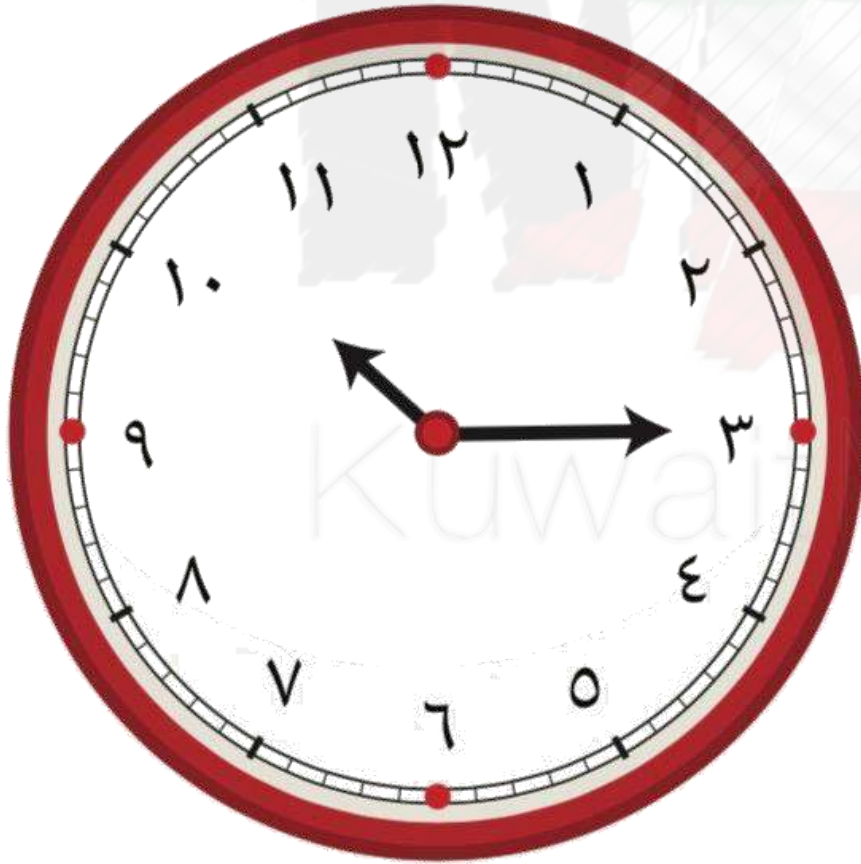


النصف


الرابع

حوظ الإجابة الصحيحة

الساعة الآن العاشرة و الربع .



صل نموذج الساعة بالوقت المناسب لها



الساعة الواحدة
والنصف

الرابعة

الساعة السادسة
والربع

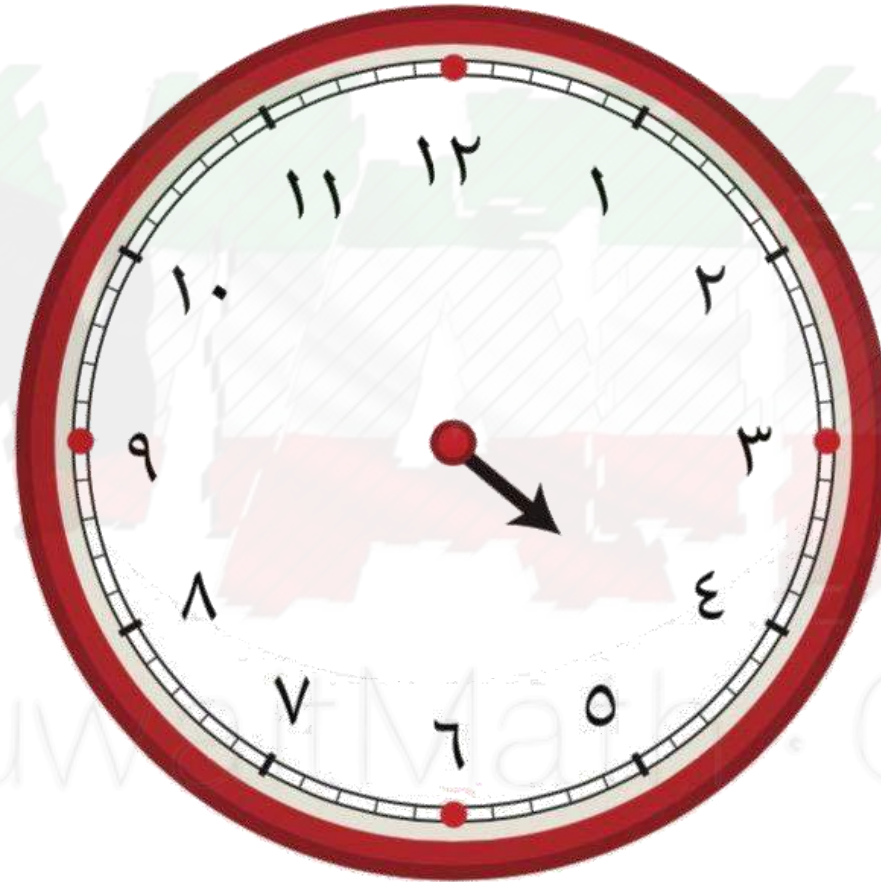
KuwaitMath.Com

ارسم العقرب الكبير ليبدل على الوقت الموضح



الساعة الثانية

ارسم العقرب الكبير ليبدل على الوقت الموضح



الساعة الرابعة و الربع

ارسم العقرب الكبير ليبدل على الوقت الموضح



الساعة الخامسة و النصف

ارسم عقربي الساعة اللذين يدلان على الوقت



التاسعة و الربع



الواحدة و النصف

• الدقيقة .

بند (١-٢)



KuwaitMaths.Com

اكتب أكثر أو أقل من دقيقة .

أصلي صلاة العصر

من الدقيقة _____



KuwaitMath.Com

اكتب أكثر أو أقل من دقيقة .



أكتب اسمي

من الدقيقة

Math . Com

اكتب أكثر أو أقل من دقيقة .

أتناول وجبة الإفطار



من الدقيقة _____

BitMath . Com

اكتب الوقت الذي تشير إليه الساعة بطريقتين مختلفتين



الساعة

اكتب الوقت الذي تشير إليه الساعة بطريقتين مختلفتين



الساعة

اكتب الوقت الذي تشير إليه الساعة بطريقتين مختلفتين



الساعة

ارسم عقرب الدقائق ليبدل على الوقت



٤:٠٠

ارسم عقرب الدقائق ليبدل على الوقت



٥:٣٠

ارسم عقرب الدقائق ليبدل على الوقت



٦:١٥

• حل المسائل : ايجاد المدة .

بند (١ - ٣)



KuwaitMath.Com

ارسم عقربي الساعة ، ثم اكتب وقت النهاية

تصبح

٠:٠٠



بعد
ساعتين



ابتداءً

٠:٠٠

KuwaitMath . Com

ارسم عقربي الساعة ، ثم اكتب وقت النهاية

تصبح

:



بعد
ساعة ونصف



ابداً

:00

KuwaitMath . Com

ارسم عقربي الساعة ، ثم اكتب وقت النهاية

تصبح

:



بعد
٣ ساعات وربع




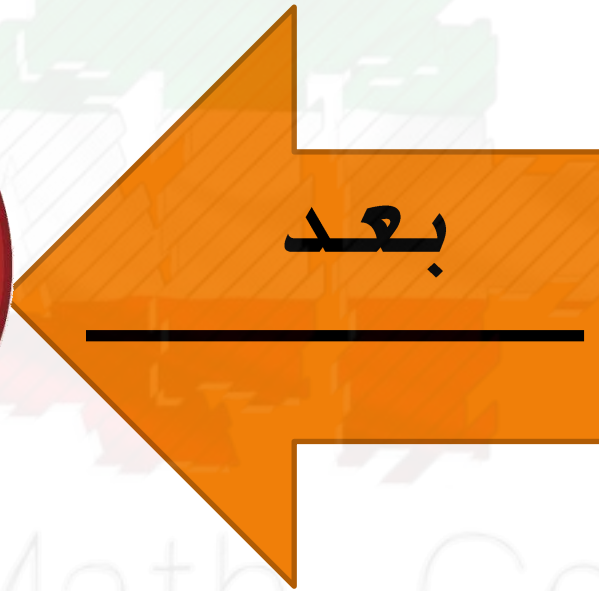
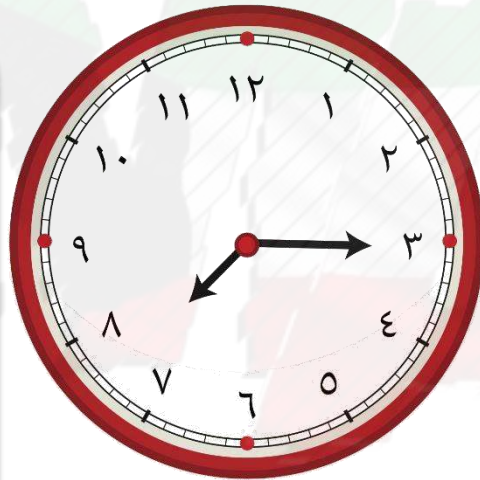
ابتداءً

:

KuwaitMath . Com

اقراء الساعتين ما المدة التي مضت ؟

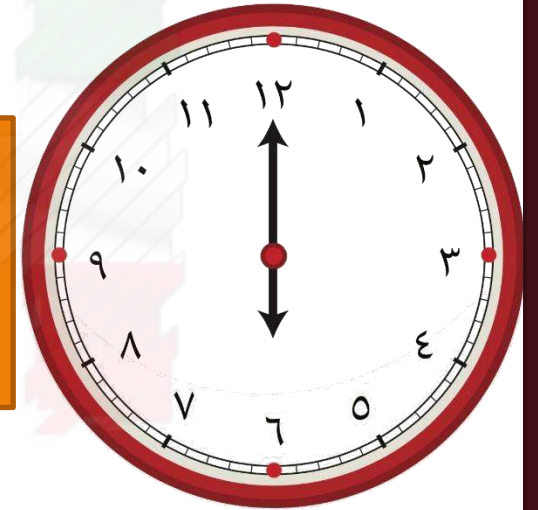
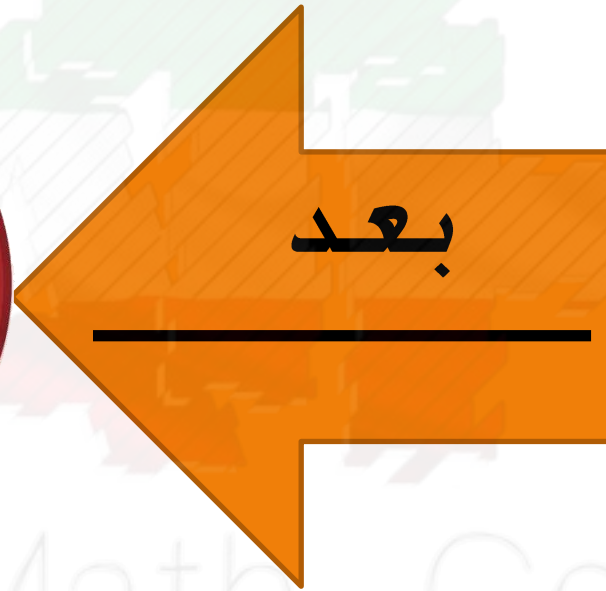
السابعة
و الربع



KuwaitMath.Com

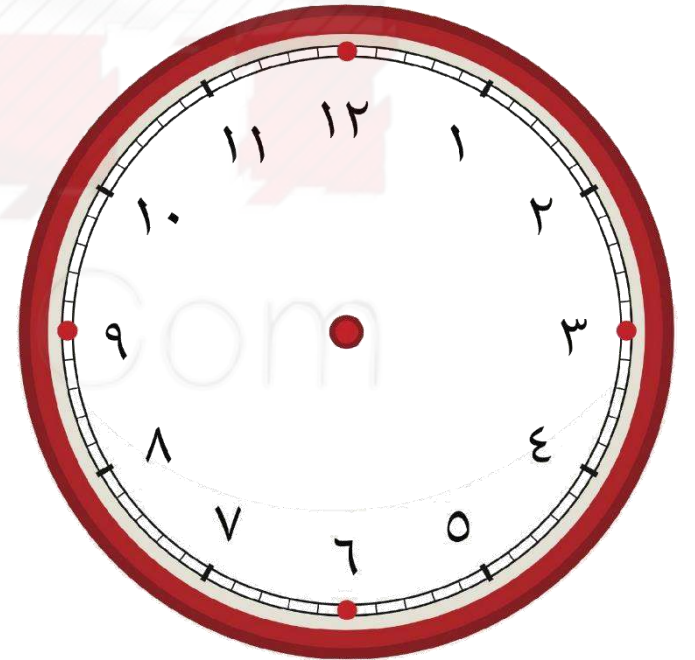
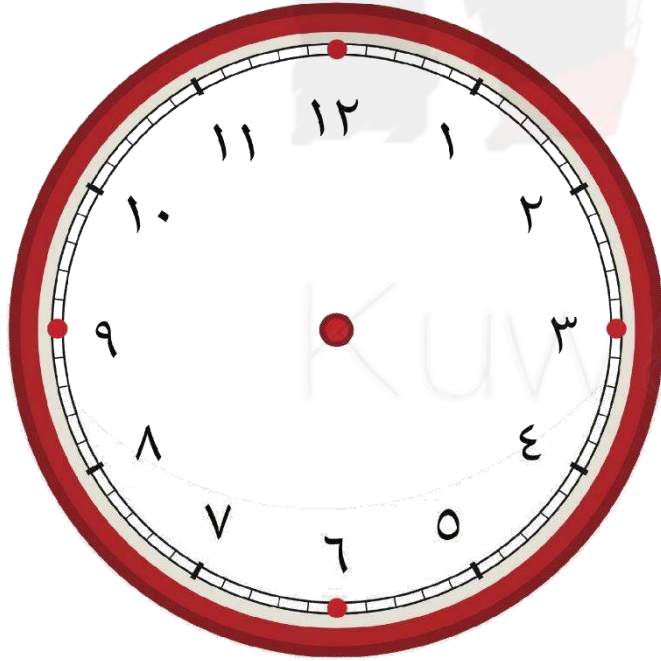
اقراء الساعتين ما المدة التي مضت ؟

التاسعة
و النصف




KuwaitMath.Com

- ذهب خالد مع زملائه ليلعبوا بالملعب الساعة ٤ .
وقضوا وقتا ممتعا استمر ساعتين . في أي ساعة
عاد خالد الى المنزل ؟ وضح إجابتك على الساعات .

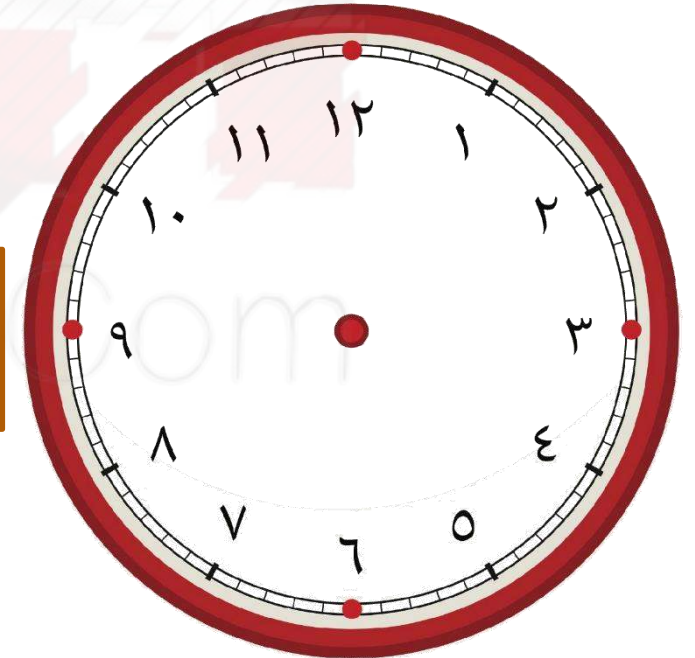
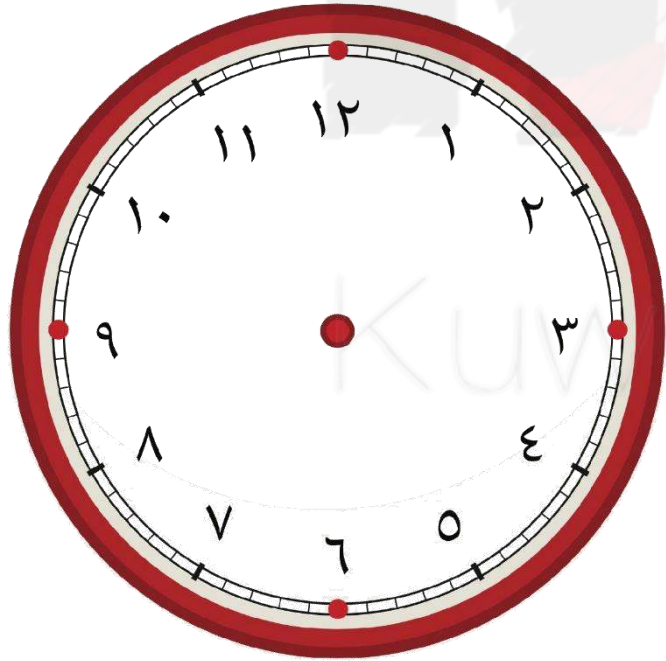


يتناول محمد وجبة الغداء يوميا الساعة الثانية لمدة ربع



ساعة ، ما الوقت الذي ينتهي به ؟

وضح إجابتك على الساعات



•مراجعة الوحدة الحادية عشرة.

بند (١١-٥)



KuwaitMath.com

اختر أكثر من دقيقة – أقل من دقيقة

حل الواجبات



أكثر من دقيقة

أقل من دقيقة

www.Math.Com

اختر أكثر من دقيقة – أقل من دقيقة

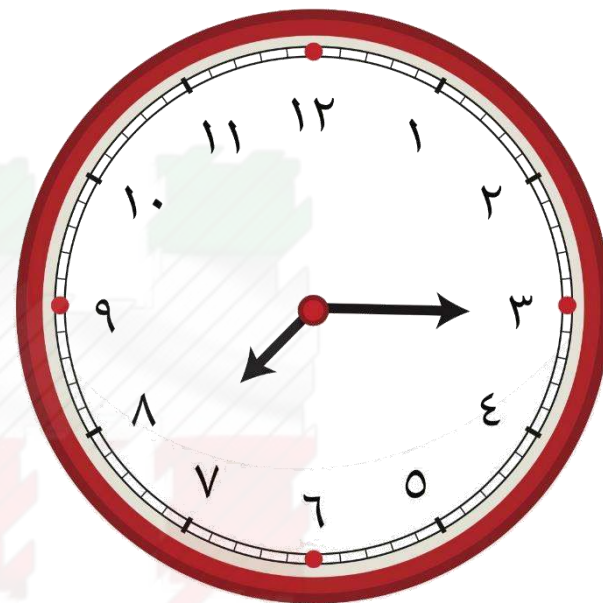
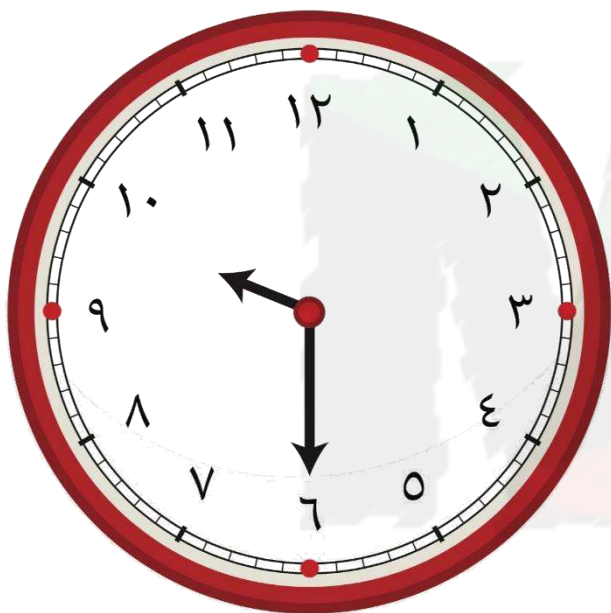
القفز مرتين متتاليتين

أكثر من دقيقة

أقل من دقيقة



صل نموذج الساعة بالوقت المناسب لها



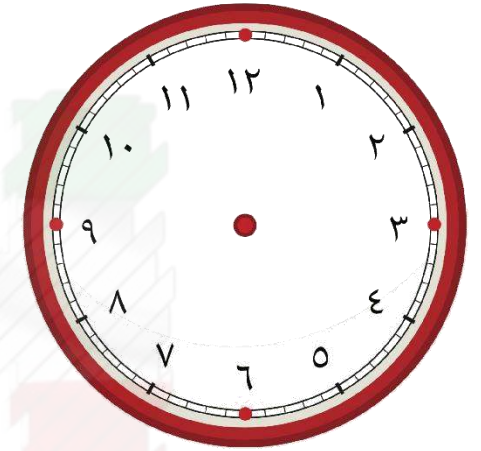


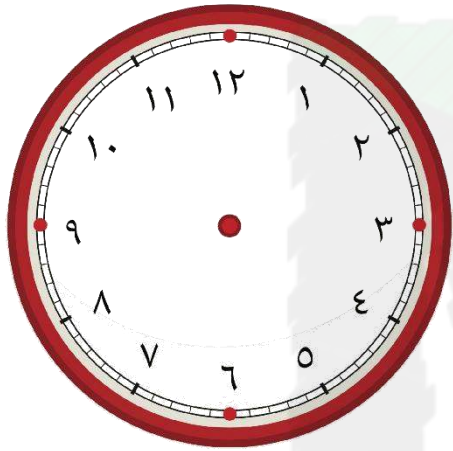
٧:١٥

٩:٣٠

٨:٠٠

KuwaitMath.Com

أكمل النمط ثم ارسم عقربي الساعة



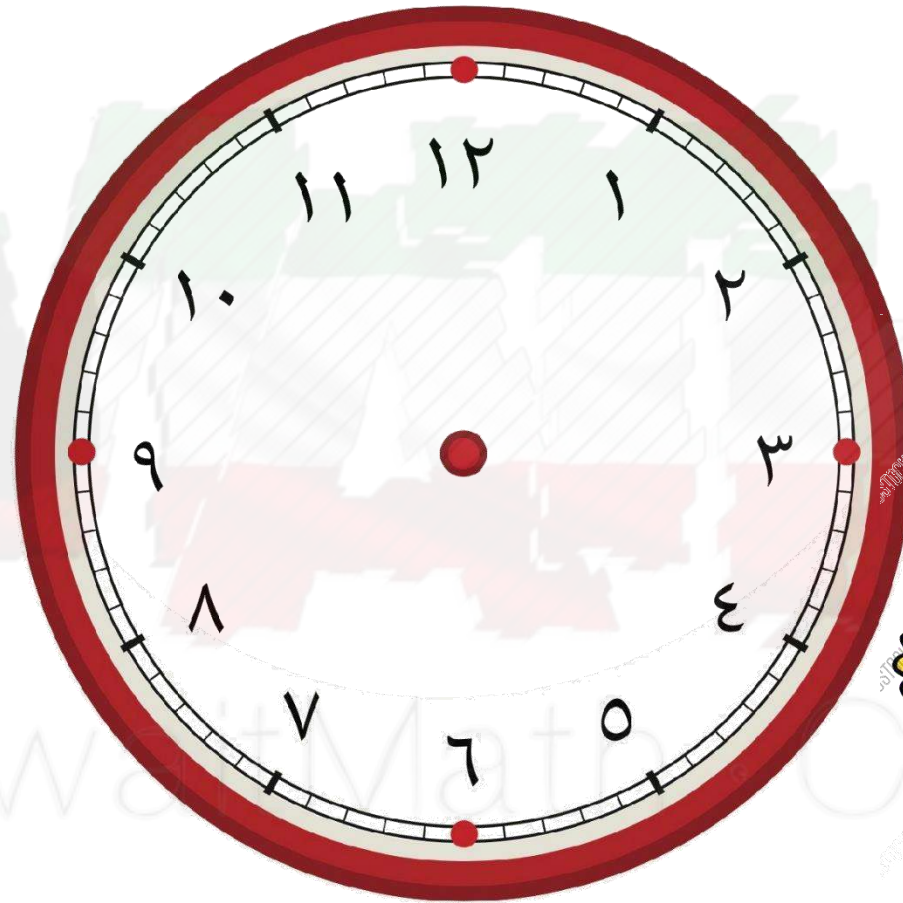
⬥
⬥

٦ : ⬥ ⬥

٥ : ٣ ⬥

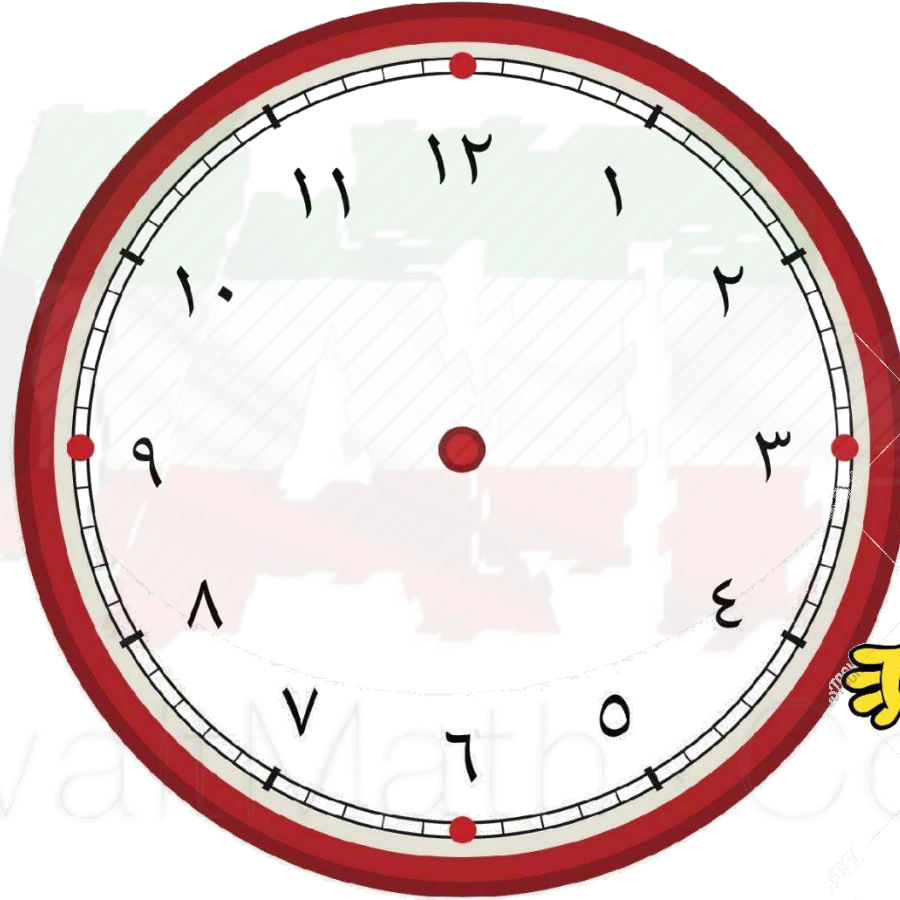
٥ : ⬥ ⬥

ارسم عقربي الساعة لتوضيح الوقت المحدد أسفل الصورة



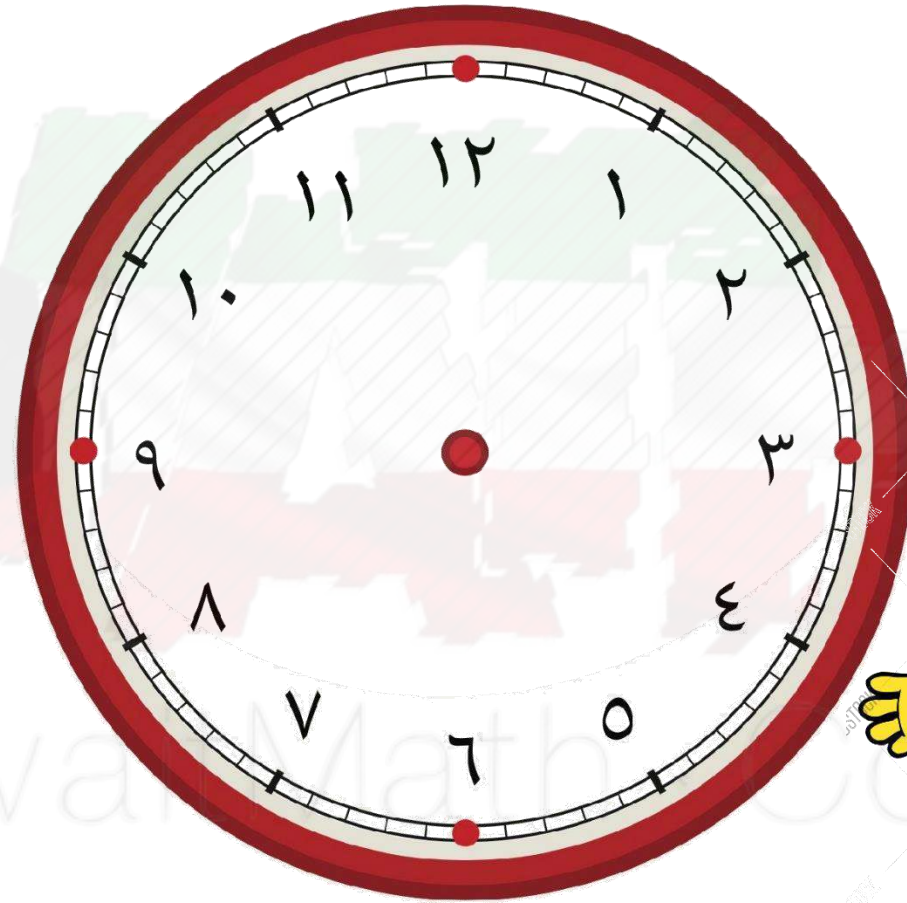
الساعة الحادية عشر و الربع

ارسم عقربي الساعة لتوضيح الوقت المحدد أسفل الصورة



الساعة العاشرة و النصف

ارسم عقربي الساعة لتوضيح الوقت المحدد أسفل الصورة



الساعة الواحدة

لون الإجابة الصحيحة :



الساعة =

٦٠

دقيقة

٣٠


دقيقة

١٥

دقيقة

KuwaitMath.Com

لون الإجابة الصحيحة :



نصف الساعة =

٦٠

دقيقة

٣٠


دقيقة

١٥

دقيقة

KuwaitMath.Com

لون الإجابة الصحيحة :



ربع الساعة =

٦٠

دقيقة

٣٠

دقيقة

١٥

دقيقة

KuwaitMath.Com

لون الإجابة الصحيحة :

ذهب وليد إلى السوق لشراء مسلتزمات الحفل الساعة الرابعة
و عاد للمنزل الساعة الثامنة ، المدة التي قضاها بالسوق هي :



٤ ساعات

ساعة

ساعتين

لون الإجابة الصحيحة :

أكتوبر ١٠

الأحد الإثنين الثلاثاء الأربعاء الخميس الجمعة السبت

٧	٦	٥	٤	٣	٢	١
١٤	١٣	١٢	١١	١٠	٩	٨
٢١	٢٠	١٩	١٨	١٧	١٦	١٥
٢٨	٢٧	٢٦	٢٥	٢٤	٢٣	٢٢
				٣١	٣٠	٢٩

عدد أيام شهر أكتوبر = _____

٣١

يوم

٣٠

يوم

٢٩

يوم

KuwaitMath.Com