



عشرات	أحاد



أوجد الناتج

عشرات

أحاد

١٠

٣٠

+



أوجد الناتج



$$\begin{array}{r} 15 \\ + 4 \\ \hline \end{array}$$

أوجد الناتج



$$\begin{array}{r} 12 \\ + 19 \\ \hline \end{array}$$



أكملي الأعداد يا حلوه



١٠				٦					١
		١٨			١٥				
	٢٩								
					٣٥				
٥٠									٤١



أكمل الاعداد يابطل



١٠				٦					١
		١٨			١٥				
	٢٩								
					٣٥				
٥٠									٤١



أوجد الناتج



٢٠

١٠ -

.....

أوجد الناتج




٢٧

١٠ -

.....






أوجد الناتج





أوجد الناتج

عَشْرَات	آحَاد	عَشْرَات	وَحَدَات
١	٤		
	٧ +		
<input type="text" value="....."/>			



أوجد الناتج

عشرات

أحاد



١

٥

٥ +



أوجد الناتج



عشرات	وحدات

عشرات	أحاد
٢	٥
	٩
<hr/>	





أجمع بالعشرات

٥٠

٤١

+


٤٠

٣٠

+



اطرح



٧٠

٣٠

-

١٩

٥٠

-

تم التحميل من:



<https://www.ykuwait.net>

TELEGRAM: @kuwait_net_home